



2014

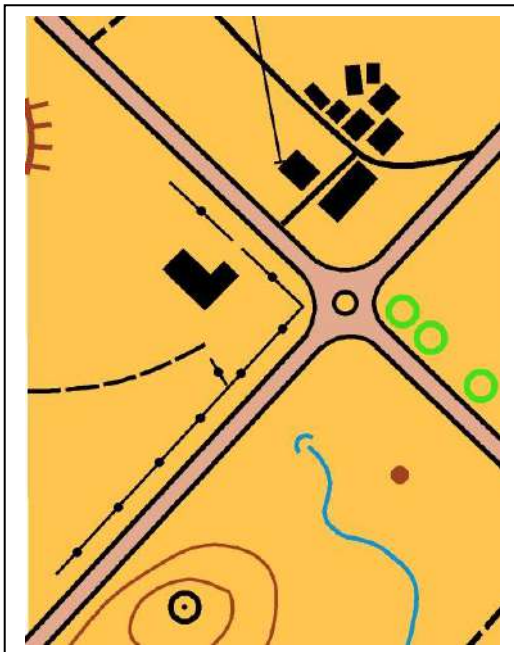
BALISE BLEUE

Direction Technique Nationale

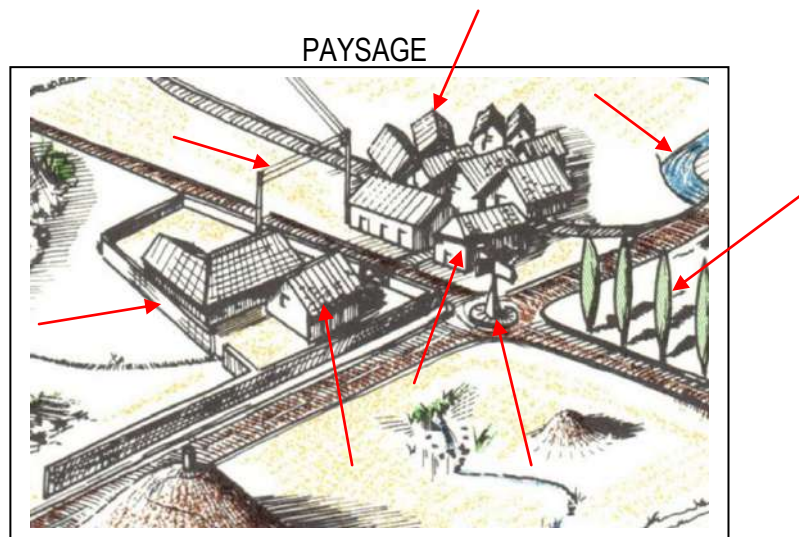
1. 1 - Compare la carte au paysage. Indique sur le paysage (à droite) avec une flèche au moins 5 éléments qui ne sont pas sur la carte de gauche (2,5 points) **0,5pt par réponse juste**

pts

CARTE


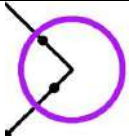


PAYSAGE



- 2 - Donne en texte, les définitions de ces postes de contrôle situés au centre du cercle : (1 point) **0,5pt par réponse juste**

pts

	<p>BORNE</p>
	<p>MUR - ANGLE EST</p>

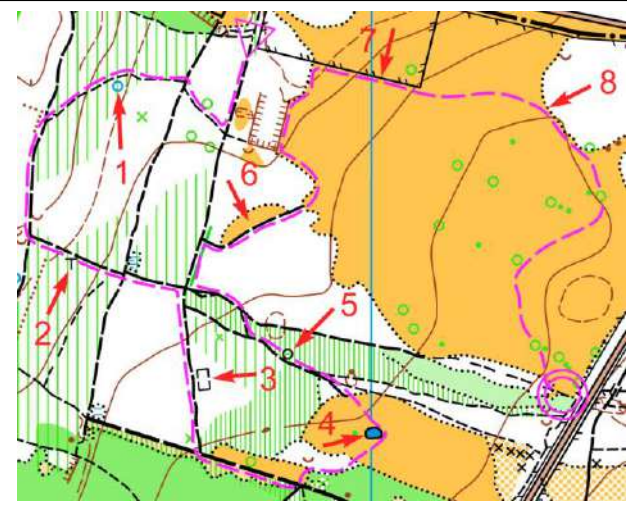
pts

3 - Dessine dans les cases prévues, le symbole correspondant au symbole de la carte et donne sa couleur (2 points) 0,5pt par réponse juste

Les correcteurs seront à même de juger les réponses			
LIMITE DE VEGETATION Couleur :	MARE Couleur :	CLOTURE FRANCHISSABLE Couleur :	SOUCHE Couleur :

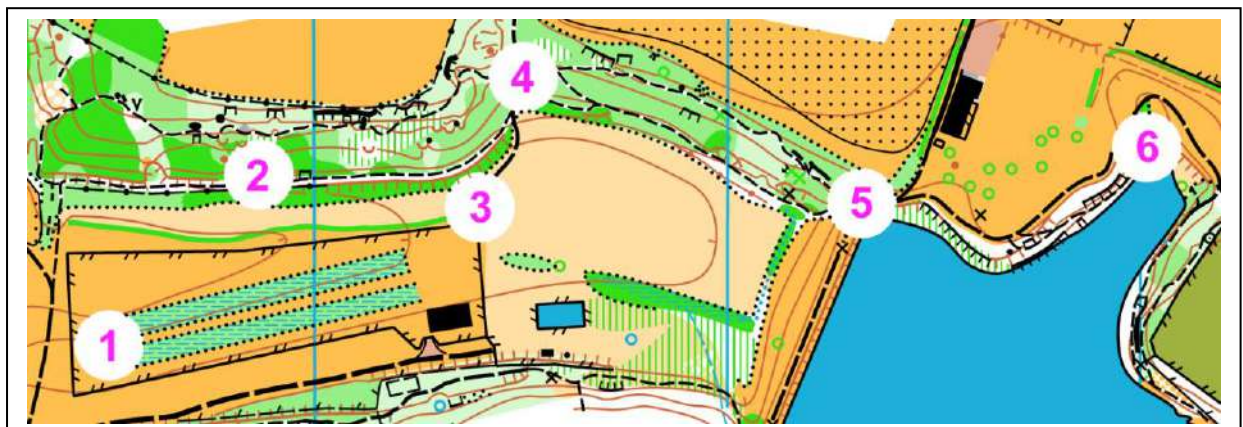
4 - Depuis le point de départ, en suivant l'itinéraire tracé sur la carte ci-dessous, tu passes à côté de différents symboles indiqués par des flèches, numérotés de 1 à 8, et qui sont situés soit à droite soit à gauche du chemin. Suivant que ces symboles se situent à gauche ou à droite du chemin que tu suis, classe les dans la bonne colonne et donne leur signification (2 points) 0,25pt par réponse juste

pts

	SIGNIFICATION SYMBOLES A GAUCHE DU CHEMIN	SIGNIFICATION SYMBOLES A DROITE DU CHEMIN
	Puits Ruine Mare - Etang Clairière Clôture infranchissable Limite de végétation	Petite tour Borne

5 - Replace les pièces du puzzle à la bonne place en reportant le chiffre à côté de la lettre (3 points) 0,5pt par réponse juste

pts



A = 2



B = 6



C = 1



D = 3



E = 4



F = 5

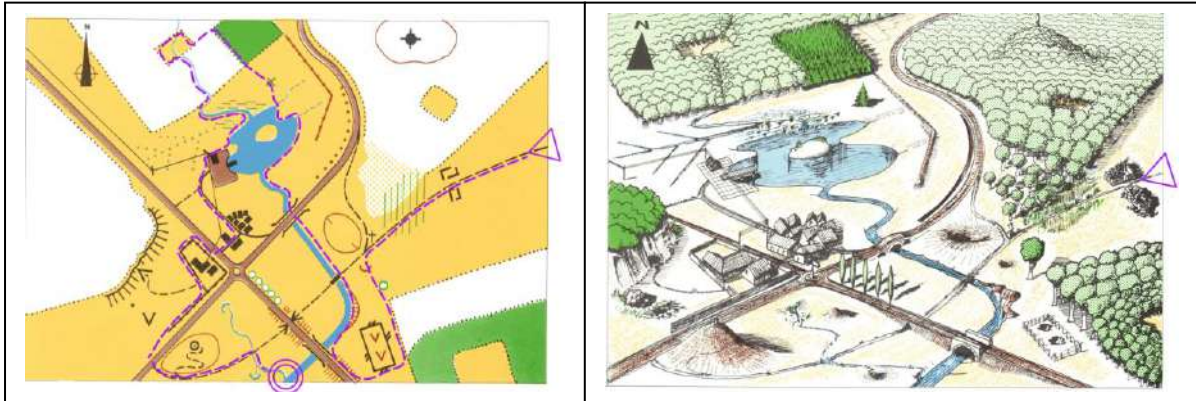
6 - Tu dois réaliser le suivi d'itinéraire qui est tracé sur la carte. Compare bien la carte avec le paysage et retrace précisément, à partir du point de départ, cet itinéraire sur le paysage. (2 points)

0,5pt en moins à chaque erreur

pts

CARTE

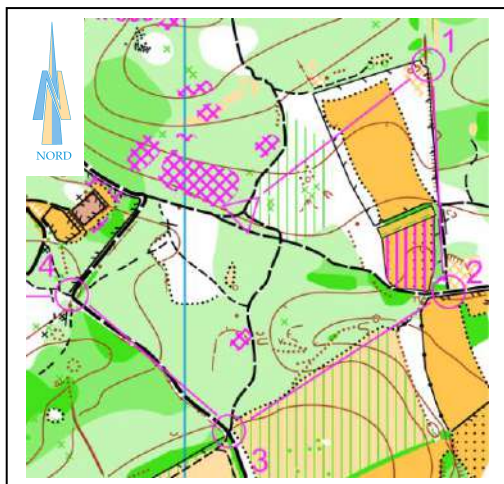
PAYSAGE



7 - Relie les directions dans lesquelles court cet orienteur sur les différents itinéraires (2 points)

0,5pt par réponse juste

pts

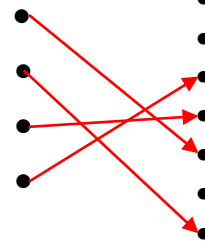


ITINERAIRES

- Départ -----> Poste 1
- Poste 1 -----> Postes 2
- Poste 2 -----> Postes 3
- Poste 3 -----> Postes 4

DIRECTIONS

- Est
- Sud - Est
- Nord - Ouest
- Sud - Ouest
- Nord - Est
- Ouest
- Sud



8 - Trouve la balise correspondant à la bonne définition. Reporte la lettre de la balise dans la case de la définition (attention, il y a plus de balises que de définitions) (1 point)

0,25pt par réponse juste

pts



Bâtiment - Angle Sud Ouest

1	C
2	A
3	G
4	D

Mare - Bord Nord

Jonction de sentiers

Clôture - Extrémité Est

9 - Observe bien les photos et essaie de retrouver l'endroit où elles ont été prises par le photographe.
Entoure la lettre correspondant à la position du photographe (1,5 points)

0,5pt par réponse juste

pts

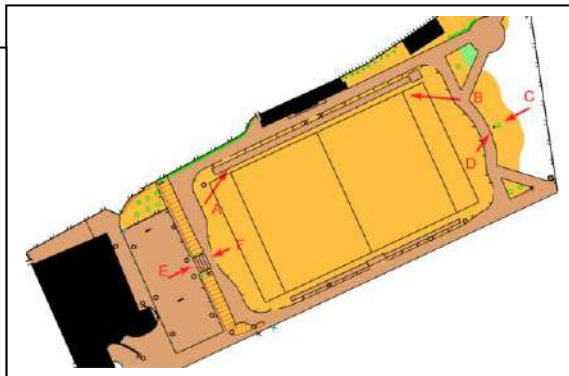


Photo 1 : C ou D

Photo 2 = E ou F

Photo 3 = A ou B



10 - Dictée'O. Essaie de trouver l'emplacement des 3 balises réalisées par cet orienteur en lisant ce qu'il raconte. Quand tu trouves l'emplacement du poste, entoure l'élément sur lequel se trouve la balise. Je te conseille d'orienter la carte et de la lire comme en course (3 points) 1 pt par réponse juste

pts

" Je suis au triangle de départ. Je prends le chemin indiqué par la pointe du triangle. J'arrive à une jonction où je prends le chemin qui part sur la droite. Je passe une intersection et tout en continuant tout droit je passe une première limite de végétation et à la seconde en tournant à gauche je la suis jusqu'au moment où je trouve la balise 1 sur une borne à droite de cette limite. Je repars immédiatement sans revenir sur mes pas en suivant la limite de végétation. J'arrive à un chemin où je tourne à gauche. Je continue sur ce chemin jusqu'au deuxième fossé que je suis jusqu'à son extrémité où je trouve la balise 2. Je rejoins le sentier situé à l'ouest et le suit dans la direction du Nord. Je franchis un première clôture puis un seconde. J'arrive à un intersection que je franchis en allant tout droit. En continuant sur ce sentier, je trouve la balise 3 au bord de la clairière située à droite du sentier."

