



2014

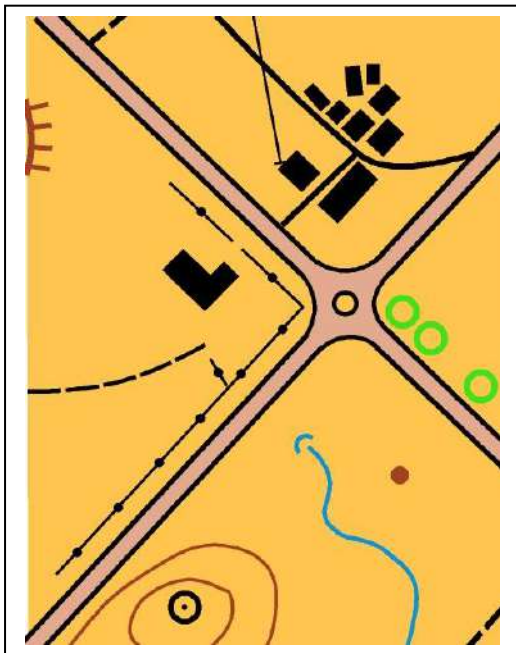
**BALISE VERTE**

Direction Technique Nationale


1. Compare la carte au paysage. Indique sur le paysage (à droite) avec une flèche au moins 4 éléments qui ne sont pas sur la carte à gauche (2 points)

pts

CARTE

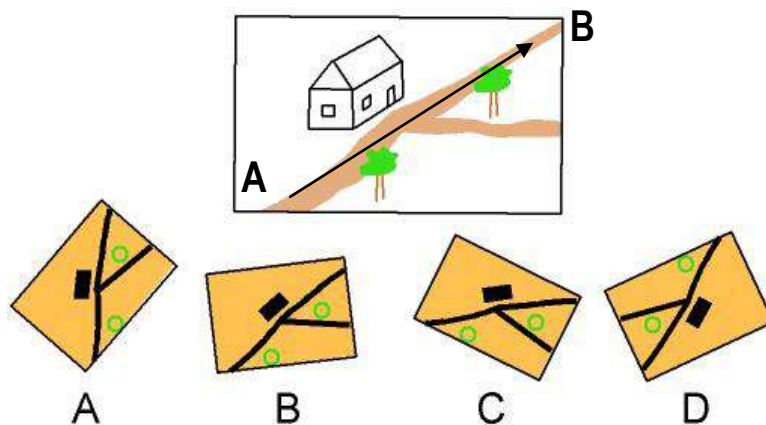


PAYSAGE



2. Tu dois savoir orienter ta carte. Tu es situé au point A et tu veux aller au point B. Comment dois-tu tenir ta carte dans ta main ? Entoure la lettre du plan bien orienté (2 points)

pts



3. De quelle couleur est représentée un étang ou une mare sur la carte ? (1 point)

pts

\_\_\_\_\_

4. Relie le symbole à sa couleur (2 points)

pts

- |          |   |         |
|----------|---|---------|
| BORNE    | • | • JAUNE |
| CHAMP    | • | • BLEU  |
| RUISSEAU | • | • VERT  |
| SOUCHE   | • | • NOIR  |


5. Relie par un trait le symbole à sa signification (4 points)

pts

- |                                                                                     |   |               |
|-------------------------------------------------------------------------------------|---|---------------|
|    | • | • Arbre isolé |
|    | • | • Route       |
|    | • | • Champ       |
|    | • | • Ruine       |
|    | • | • Bâtiment    |
|  | • | • Mur         |
|  | • | • Sentier     |
|  | • | • Etang       |

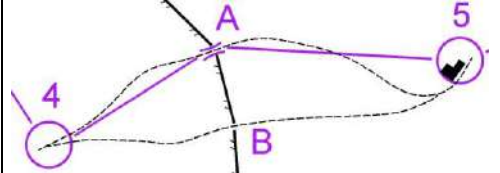
6. Donne la définition de ce symbole : (1 point)

pts

	<input type="checkbox"/> Clôture <input type="checkbox"/> Chemin <input type="checkbox"/> Ligne électrique
-------------------------------------------------------------------------------------	------------------------------------------------------------------------------------------------------------------

7. Sur ta carte, si le circuit est dessiné comme l'exemple ci dessous, peux tu passer par le chemin B qui est plus court que le chemin A? (1 points)

pts

	<input type="checkbox"/> oui <input type="checkbox"/> non
-------------------------------------------------------------------------------------	--------------------------------------------------------------

8. Tu dois réaliser le suivi d'itinéraire qui est tracé sur la carte. Compare bien la carte avec le paysage et retrace précisément, à partir du point de départ, cet itinéraire sur le paysage. (2 points)



CARTE



PAYSAGE

pts

9. Replace les pièces du puzzle à la bonne place en reportant le chiffre à côté de la lettre (3 points)



A =



B =



C =



D =



E =



F =

pts

10. **Dictée'O** : Essaie de trouver l'emplacement des 2 balises réalisées par cet orienteur en lisant ce qu'il raconte. Quand tu trouves l'emplacement du poste, entoure l'élément sur lequel se trouve la balise et marque son numéro. Je te conseille d'orienter la carte comme si tu la lisais en course (2 points)

"Je suis au triangle de départ. Au top départ, je prends le chemin indiqué par la pointe du triangle. A la première jonction de chemins, je tourne à gauche puis à la 2ème, je tourne également à gauche. A la 3ème jonction, je tourne à droite. Je continue sur le chemin et je rentre dans un champ où je trouve la balise 1 à l'angle du champ. Je continue sur ce même chemin qui traverse le champ. Arrivé au bout du champ, je prends le chemin qui continue tout droit en face dans la forêt. Je passe une jonction de sentier en continuant tout droit jusqu'à une intersection où je tourne à gauche. Je continue sur ce chemin et je trouve la balise 2 sur un objet particulier situé sur la droite du chemin."



pts