



2015

BALISE VERTE

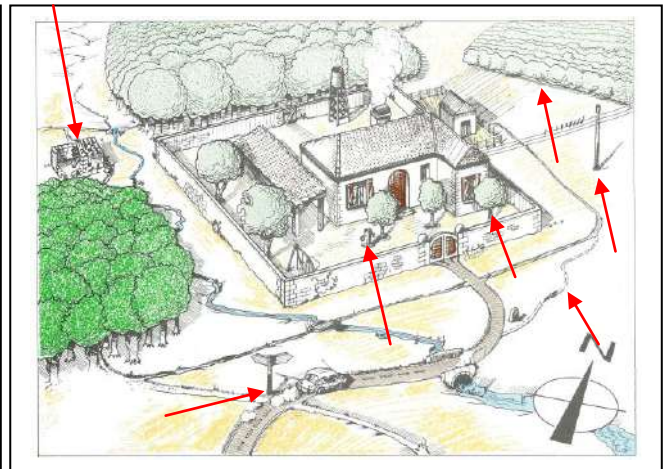
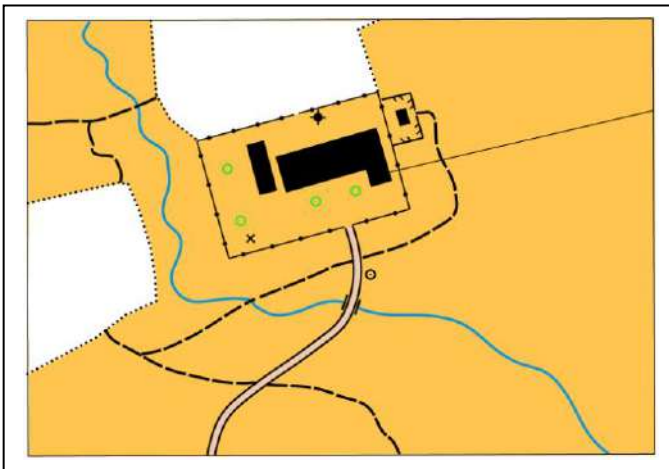
Direction Technique Nationale

1. Compare la carte au paysage. Indique sur le paysage (à droite) avec une flèche au moins 4 éléments qui ne sont pas sur la carte à gauche (2 points) (0,5 pt par bonne réponse)

pts

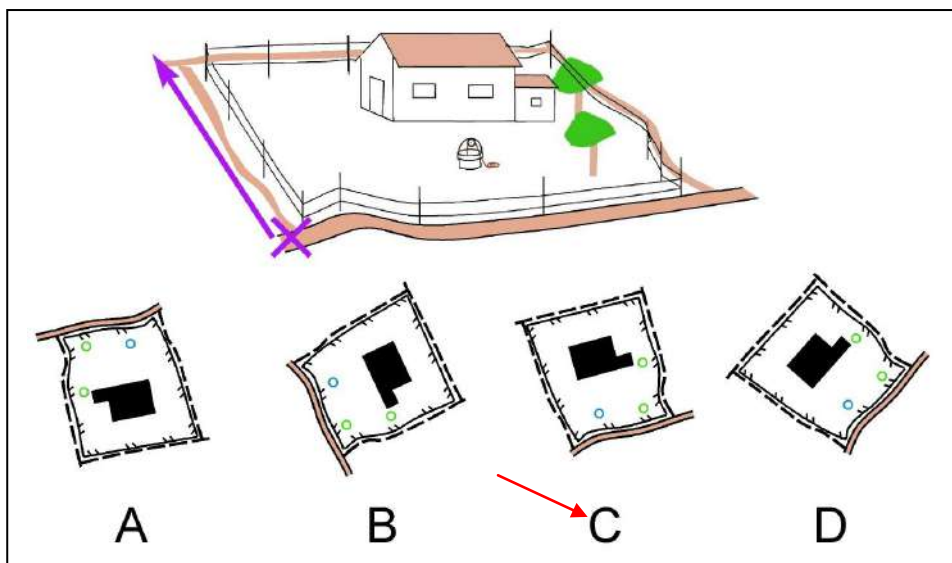
CARTE

PAYSAGE



2. Tu dois savoir orienter ta carte. Tu es situé(e) à la croix et tu veux aller dans la direction indiquée par la flèche. Comment dois-tu tenir ta carte dans ta main ? Entoure la lettre du plan bien orienté (2 points)

pts



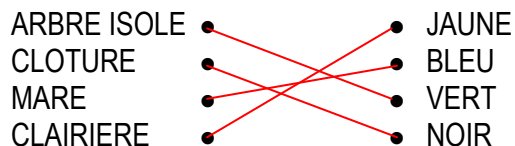
3. Un champ ou une prairie ou une clairière sont représentés de la même couleur sur la carte, laquelle? (1 point)

pts

JAUNE

4. Relie le symbole à sa couleur (2 points) (0,5 pt par bonne réponse)

pts



5. Donne la définition de ce symbole : (1 point)

pts

| | |
|--|--|
| | <input checked="" type="checkbox"/> Mur <input type="checkbox"/> Chemin <input type="checkbox"/> Clôture |
|--|--|

6. Ecris le chiffre dans le cercle correspondant à la définition du symbole (4 points) (0,5 pt par bonne réponse)

pts

| | |
|---|-------------|
| 3 | Borne |
| 7 | Bâtiment |
| 1 | Ruisseau |
| 2 | Arbre isolé |
| 4 | Clôture |
| 6 | Etang |
| 8 | Mur |
| 5 | Chemin |

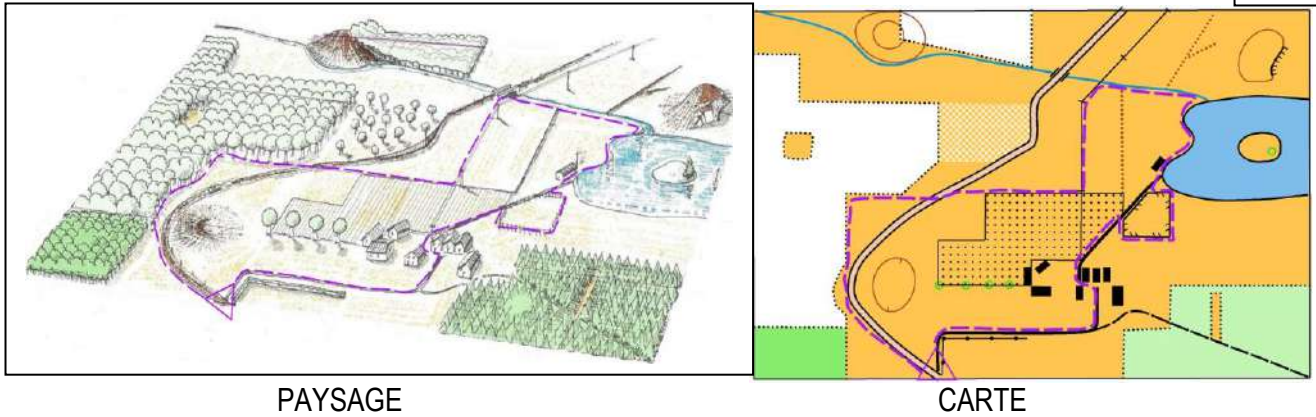
7. Lorsque que tu as poinçonné la balise d'arrivée, peux tu repartir poinçonner une balise que tu as oubliée sur ton parcours? (1 point)

pts

- Oui
 Non


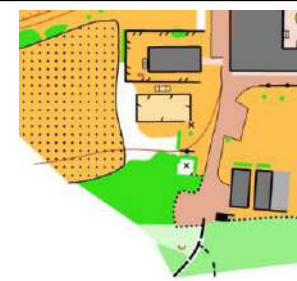
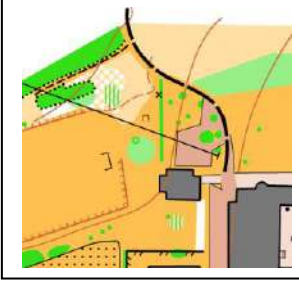

8. Compare bien le paysage et la carte et retrace précisément, à partir du point de départ, l'itinéraire du paysage sur la carte. (3 points) (pas d'erreur = 3pts - 1 erreur = 2pts - 2 erreurs = 1pt - au-delà = 0pt)

pts



9. Replace les pièces du puzzle à la bonne place en reportant la lettre à côté du chiffre. (2 points)

pts

| | | |
|---|---|--|
| A | B | |
|  |  | <div style="font-size: 2em; font-weight: bold; margin-bottom: 10px;">1 = C</div> <div style="font-size: 2em; font-weight: bold; margin-bottom: 10px;">2 = A</div> <div style="border: 1px solid black; padding: 5px; font-size: 0.8em; margin-bottom: 10px;"> 3 réponses justes = 2points 2 réponses justes = 1point 1 réponse juste = 0,5 point </div> <div style="font-size: 2em; font-weight: bold; margin-bottom: 10px;">3 = B</div> <div style="font-size: 2em; font-weight: bold;">4 = D</div> |
|  |  | |
| C | D | |

10. **Dictée'O** : Essaie de trouver l'emplacement des 2 balises réalisées par cet orienteur en lisant ce qu'il raconte. Quand tu trouves l'emplacement du poste, entoure l'élément sur lequel se trouve la balise et marque son numéro. Je te conseille d'orienter la carte comme si tu la lisais en course (2 points)

pts

(1 pt par bonne réponse)

"Je suis au triangle de départ. Au top départ, je prends le chemin indiqué par la pointe du triangle. A la première intersection de chemins, je tourne à droite, je continue à courir jusqu'à la prochaine intersection où je tourne à gauche. Je continue jusqu'à la prochaine jonction de chemins où je trouve ma première balise. Je repars par le sentier qui était situé à ma droite en arrivant. A la première jonction de chemins, je tourne à droite, je suis sûr de moi alors j'accélère je passe une jonction en continuant tout droit. Je ralentis en arrivant à une intersection où je tourne à gauche. Je continue à courir mais en faisant bien attention. Je passe une jonction de sentiers, et je continue tout droit jusqu'à la prochaine où je trouve ma deuxième balise sur un arbre situé à droite du chemin".

