







2018

BALISE JAUNE

Direction Technique Nationale

1. Dessine le symbole correspondant au symbole de la carte et donne sa couleur (2 points)

2 pts

<p>Ruisseau intermittent Couleur : bleu</p> 	<p>Levé de terre Couleur : marron</p> 	<p>charbonnière Couleur : marron ou noir</p> 	<p>Zone interdite matérialisation continue Couleur : magenta</p> 
---	---	--	--

2. Traduis en texte, les définitions des postes 2, 3, 4 et 5 qui figurent en symbole I.O.F dans la grille ci-dessous. (Voir l'exemple en rouge) (2 points)

2 pts

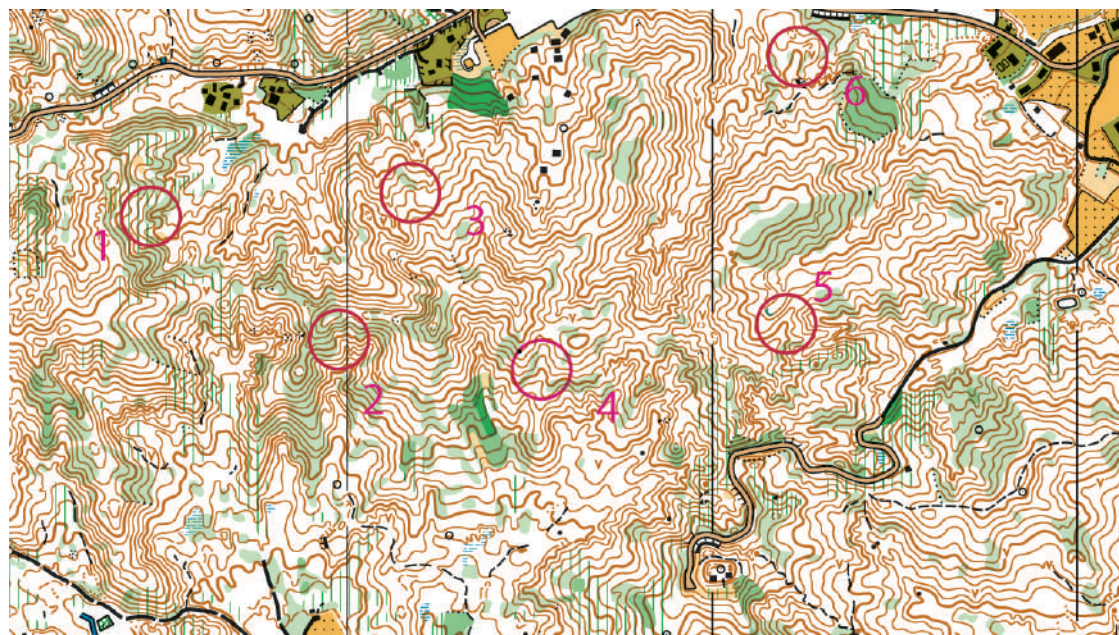
1	205	↓	∪	∩			
2	211		▲	▬		≡	
3	213		↗	↘	<		
4	212		∩	∪			
5	214	↘	⊗			⊙	

- Poste 1 (206) = Cuvette la plus au Sud, évasée
- Poste 2 (202) = entre rocher et falaise
- Poste 3 (225) = au coude du muret, en ruine
- Poste 4 (231) = celui du milieu, rentrant partie amont, caillouteux
- Poste 5 (227) = le plus au Sud-Est, fourré, côté Sud-Est

3. Est-ce un rentrant ou une avancée? Raye la réponse fausse (2 points)

2 pts

- 1 = Av ou ~~Rentr~~
- 2 = Av ou ~~Rentr~~
- 3 = Av ou ~~Rentr~~
- 4 = Av ou ~~Rentr~~
- 5 = Av ou ~~Rentr~~
- 6 = Av ou ~~Rentr~~



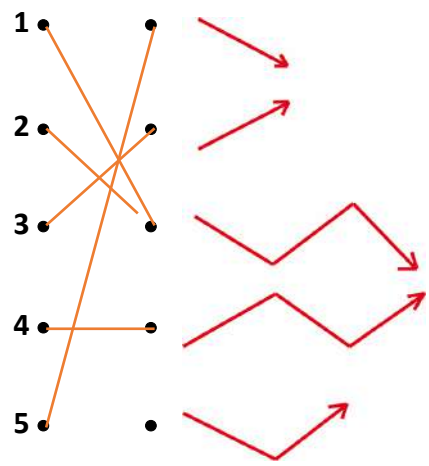
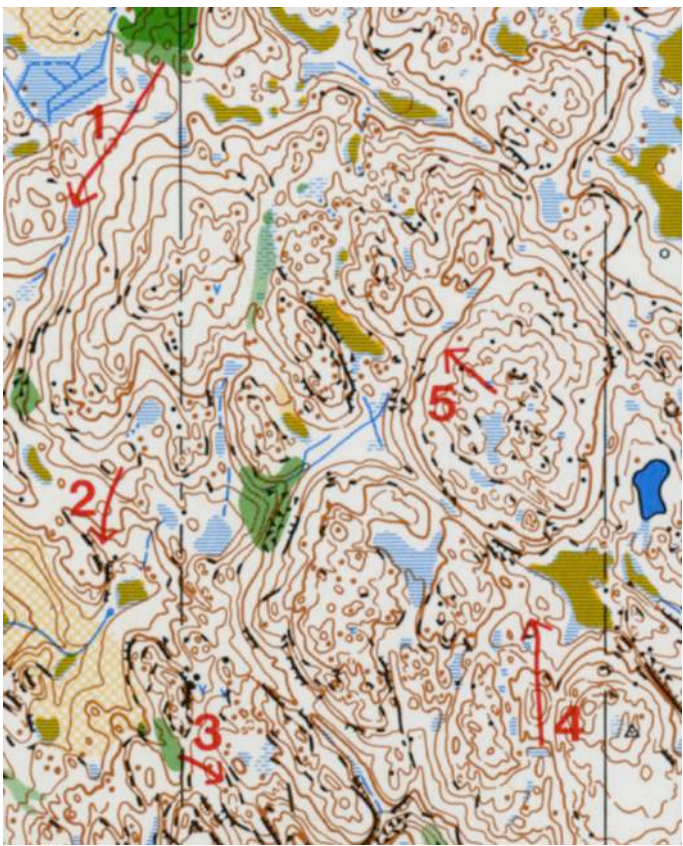
4. Est-ce autorisé de faire ce qui est décrit par ce coureur? Relie la proposition à la bonne réponse (1point)

1 pt

- Durant ta course, revenir en arrière pour (re)trouver un poste oublié
 - Après l'arrivée, revenir en arrière pour bipper l'avant dernier oublié
 - Après le départ, revenir pour (é)changer sa carte (pas le bon circuit)
- AUTORISE**
 NON AUTORISE

5. En regardant bien le relief sur la carte, relie le chiffre au bon profil (2,5 points)


2,5 pts

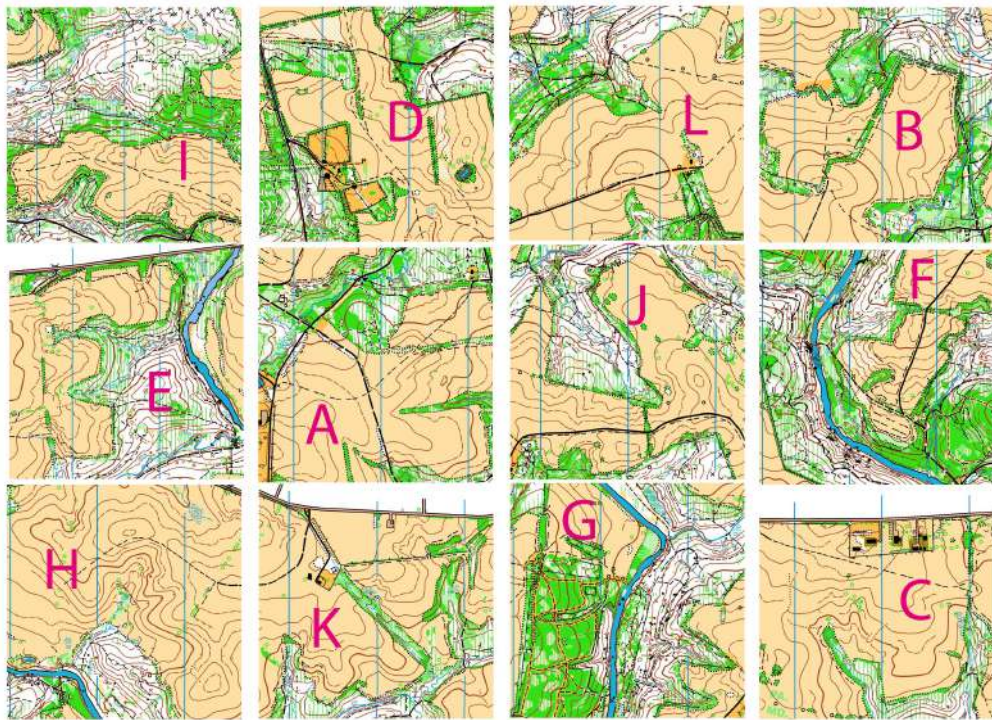


6. Donne la signification de ces 6 symboles (1,5 points)

- 1 **Abrupt de terre(ou talus)**
- 2 **marais (franchissable)**
- 3 **borne**
- 4 **végétation (réellement) infranchissable**
- 5 **point de passage**
- 6 **layon, course aisée**

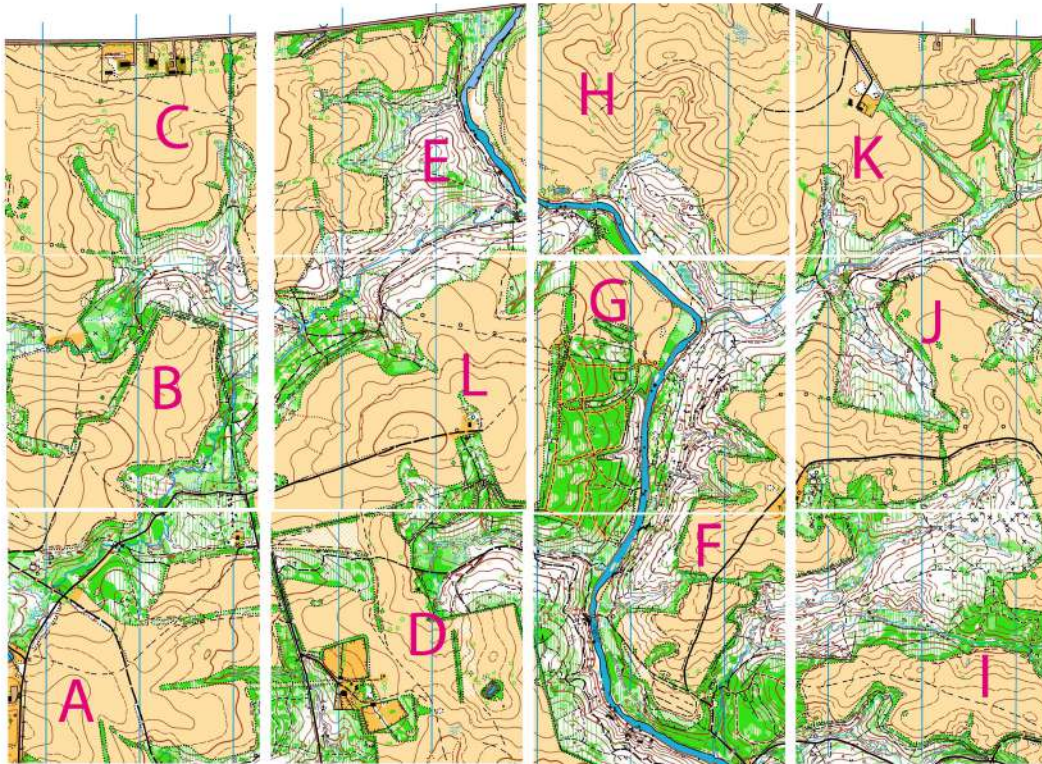
1,5 pts





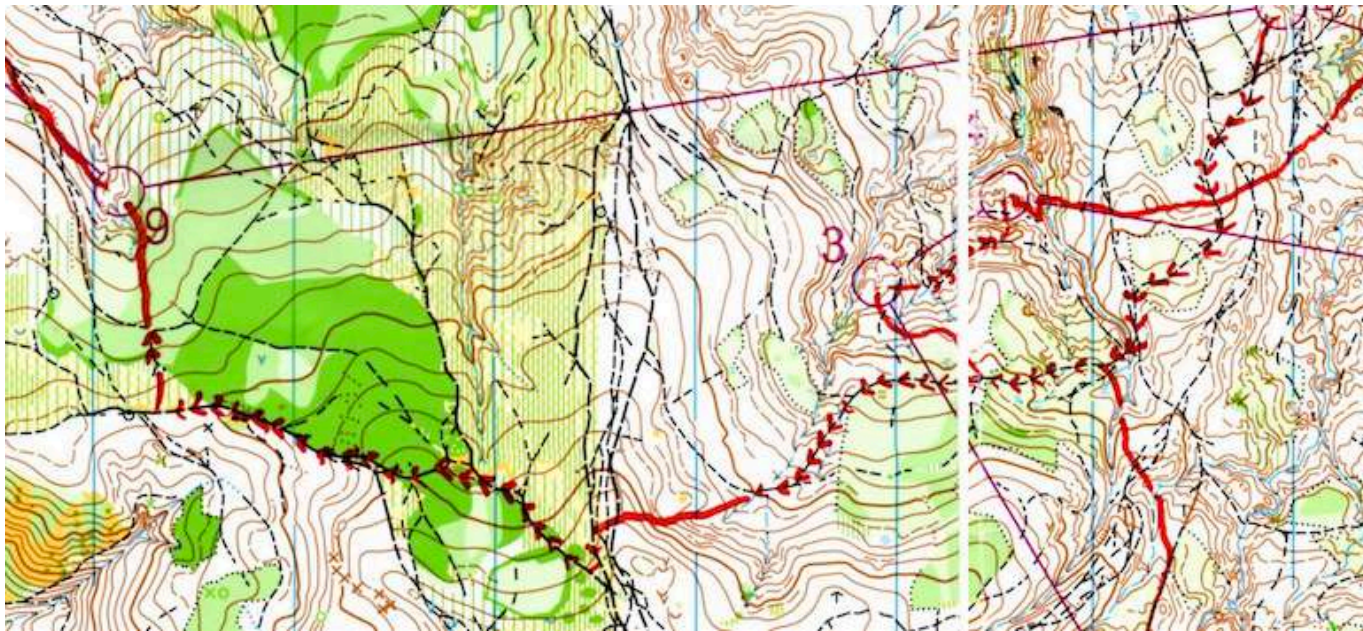
7. Replace les pièces du puzzle à la bonne place en reportant les lettres dans les cases. Pour t'aider, 2 réponses sont déjà données (2 points)

2 pts



8. Sur la carte ci-dessous, surligne ton itinéraire pour aller du poste 7 au poste 8. Puis, tu indiqueras le ou les points d'appui que tu utilises par une flèche, ton point d'attaque par une croix, ta ligne d'arrêt par une ligne marquée LA, voir la légende. (2 points)

2 pts



LEGENDE A UTILISER :

Itinéraire = -----

Point d'appui = →

Point d'attaque = X

Ligne d'arrêt = LA

L'itinéraire de correction est le tracé du vainqueur M16 des EYOC 2015 en Roumanie, itinéraire laissé à discrétion des correcteurs P

d'appui = jonctions ou croisements de chemin et PA, limite de végé et LA, le ruisseau à ne pas dépasser vers l'ouest ...

L'iti 11 à 12 du questionnaire étant aussi celui des M18...mais j'ai préféré la réponse plus simple du M16



9. Reporte sur la carte en bas les 6 balises figurant sur la photo aérienne. (3 points)

3 pts



10. **Dictée'O** . Essaie de trouver l'emplacement de 4 postes que recherche cet orienteur en lisant ce qu'il raconte. Quand tu trouves l'emplacement du poste entoure l'élément sur lequel se trouve la balise (2points)

2 pts

« Je suis au triangle de départ. Au top départ, je prends le chemin direction Nord-Ouest qui m'amène à un grand carrefour. Je tourne à droite devant le chalet et suis la direction Est puis Nord-Est; au coude du chemin, juste après le ruisseau, je commence à monter dans la même direction sur un sentier peu visible qui m'amène à croiser un fossé. Cette jonction est mon point d'attaque; je poursuis plein Nord en direction d'une pointe de vert 2; mon rentrant se situe à l'ouest. Mon premier poste est dans sa partie amont.

Je continue plein Nord le long de cette zone de vert 1 puis vert2, j'atteins un layon que je suis vers l'Est. Au grand carrefour, je continue vers le Nord-Est ; j'emprunte le premier chemin à droite direction Est. Il y a un coude peu marqué, mais surtout un pré : je descends après ce point d'appui(angle Est du pré) plein Sud ; je franchis un ruisseau. La petite jonction de ruisseau est mon PA et mon poste se situe juste après : c'est un trou d'eau.

Je repars en direction du Nord-Est et j'atteins le pré; je le traverse jusqu'à sa pointe Nord puis monte plein Nord pour dépasser les deux zones de vert. Au léger coude du sentier, je poursuis avec l'azimut Nord-Est en longeant un talus bien marqué et tente de me frayer un passage pour rejoindre vers l'Est un large chemin. Je le coupe, puis je descends vers un ruisseau que je longe en direction du Nord, puis la branche Nord-Est ; enfin, j'aperçois la clairière où se trouve mon poste 3 dans son bord Sud-Est

Je continue plein Ouest en sautant le ruisseau puis longeant le Vert 1 sur ma gauche. Je traverse deux chemins successivement, puis longe un pré dans sa partie Nord et continue sur un chemin qui m'amène dans une zone encombrée ; je décide de la contourner par le Sud pour retrouver un ruisseau que je longe vers l'Ouest. Je découvre une première borne puis j'atteins un chemin que je dois quitter pour suivre un fossé en direction du Nord-Ouest et il m'amène à une seconde borne où je découvre mon poste 4. »

