





N° DOSSARD :



BALISE JAUNE












1. Dessine le symbole correspondant au symbole de la carte et donne sa couleur (2 points)
Moins ½ point par réponse fausse ou absente

2 pts

Fossé humide 	Falaise infranchissable 	Petite dépression 	Végétation basse 
Couleur : bleu	Couleur : noir	Couleur : bistre ou marron	Couleur : vert rayé

2. Traduis en texte, les définitions des postes 2, 3, 4 et 5 qui figurent en symbole I.O.F dans la grille ci-dessous (voir l'exemple en rouge) (2 points) *Moins ½ point par réponse fausse ou absente*

2 pts

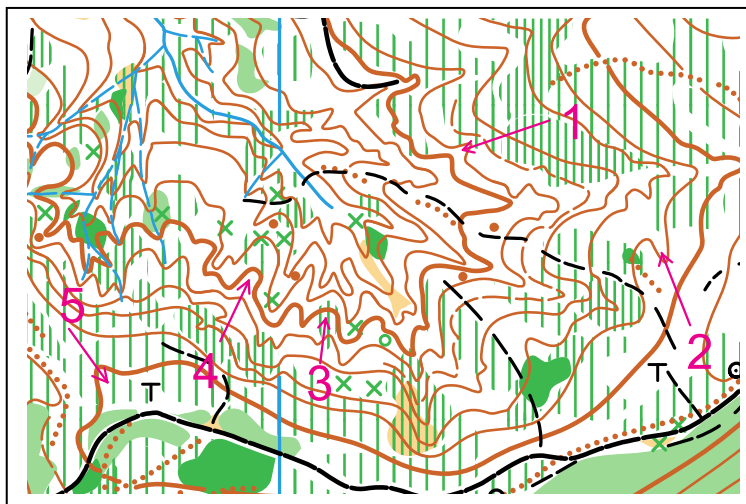
1	31			
2	34			
3	36			
4	33			
5	37			

- Poste 1 (31) = **Colline, pied sud**
- Poste 2 (34) = **Ravine extrémité NO**
- Poste 3 (36) = **Limite de végétation, angle intérieur SO**
- Poste 4 (33) = **Butte la plus au NO, pied E**
- Poste 5 (37) = **Dépression, partie O**

3. RELIEF : est-ce un rentrant ou une avancée? Raye la réponse fausse (2 points)
Moins ½ point par réponse fausse ou absente

2 pts

- 1 = ~~Avancée~~ ou **Reentrant**
- 2 = ~~Avancée~~ ou **Reentrant**
- 3 = ~~Avancée~~ ou **Reentrant**
- 4 = ~~Avancée~~ ou **Reentrant**
- 5 = ~~Avancée~~ ou **Reentrant**



4. REGLEMENT : un coureur a-t-il le droit de faire ce qui est indiqué, Répondre par oui ou non (2 points)

Moins ½ point par réponse fausse ou absente

2 pts

A : Si le trait rouge inter-postes passe par une zone interdite, il peut traverser la zone interdite ?

Oui Non

B : S'il prend une mauvaise carte au départ, il peut revenir et prendre une autre carte ?

Oui Non

C : S'il poinçonne le poste 3, puis le poste 5 en oubliant le poste 4, il peut revenir poinçonner le poste 4 puis aller directement au poste 6.

Oui Non

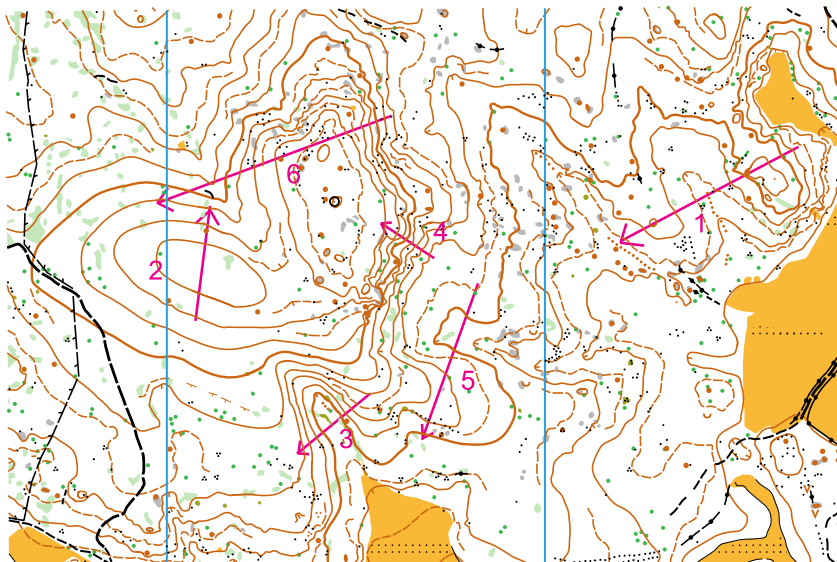
D : Au départ, après sa prise de carte, Il peut aller directement au poste 1 sans passer par la balise de départ.

Oui Non

5. Relief : Imaginer le profil du relief entre les extrémités de chaque flèche (3 points)

Moins ½ point par réponse fausse ou absente **Les flèches ne tiennent pas compte des distances !**

3 pts



Relier les chiffres correspondant aux flèches avec les lettres du profil correspondant

1 C

A

2 B

B

3 E

C

4 A

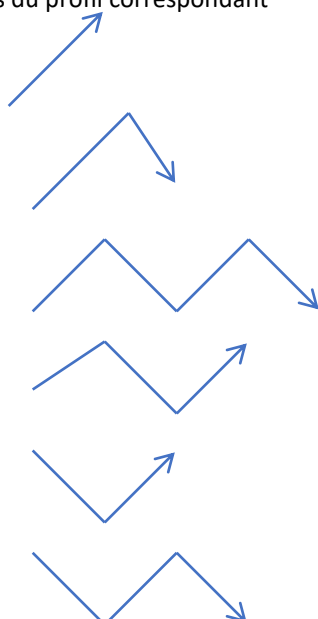
D

5 F

E

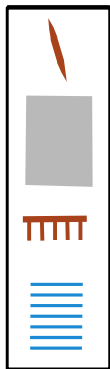
6 D

F



6. Donne la signification de ces symboles (2 points) *Moins ½ point par réponse fausse ou absente*

2 pts



Ravine

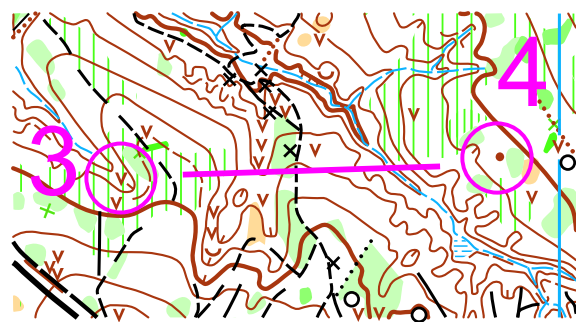
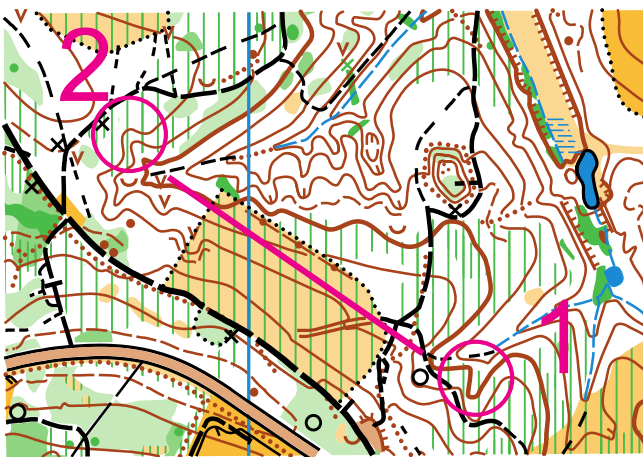
Zone rocheuse (Accepter « passage couvert » sur 1 carte de sprint)

Abrupt de terre

Marais

7. Sur la carte ci-dessous, surligne ton itinéraire pour aller du poste 1 au poste 2, et 3-4. Puis, tu indiqueras le ou les points d'appui que tu utilises par une flèche, ton point d'attaque par une croix, ta ligne d'arrêt par une ligne marquée LA, voir la légende (2 points)

2 pts



LE
EN
DE
A
UTI
LIS
ER :

Itin
érai
re =

Point d'appui = Point d'attaque = X

Ligne d'arrêt = LA

1-2 : **point d'appui** > limite de végétation

point d'attaque > angle limite végétation

LA > chemin

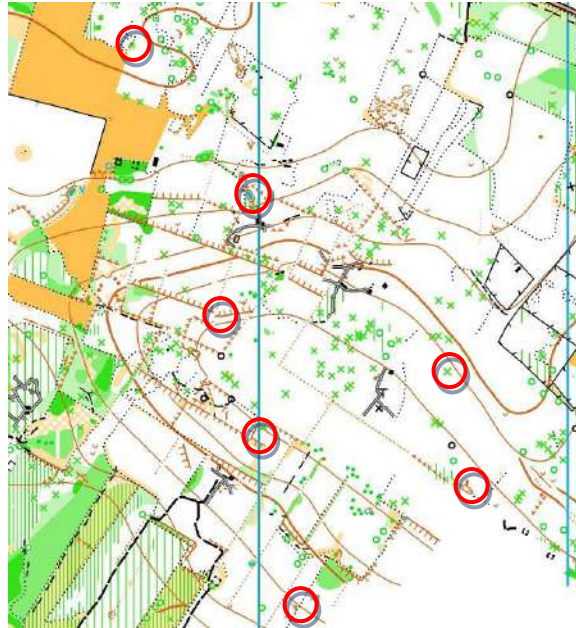
3-4 : **point d'appui** > chemins, ruisseau, rentrant

point d'attaque > rentrant

LA > fossé

8. Reporte sur la carte de droite, dont beaucoup d'éléments ont été supprimés, les balises 2 à 8 figurant sur la carte de gauche (3 points) *Moins ½ point par réponse fausse ou absente*

3 pts



9. **Dictée'O.** Essaie de trouver l'emplacement de 4 postes que recherche cet orienteur en lisant ce qu'il raconte. Quand tu trouves l'emplacement du poste entoure l'élément sur lequel se trouve la balise (2 points) *Moins ½ point par réponse fausse ou absente*

2 pts

Depuis le départ 1 je me dirige vers le nord en suivant le sentier. Après environ 100 m, au niveau d'un objet particulier, je descends vers le NE en suivant un rentrant. Mon poste se trouve dans un trou d'eau, à la jonction ruisseau, ruisseau intermittent.

Depuis le départ 2 je me dirige vers le NE en suivant le rentrant. Je rejoins un sentier que je prends en direction du NO, pendant environ 100 m où je croise un rentrant que je suis vers l'E. En contournant un fourré, je trouve une souche avec mon poste.

Depuis le départ 3, je me dirige vers le N en suivant le ruisseau au creux du rentrant. Après la première jonction de ruisseaux, je continue vers le N jusqu'à une autre jonction de ruisseaux. Je me dirige vers le NE, croise un sentier et suis le rentrant orienté NE. J'arrive à un sentier. Mon poste se trouve dans la petite dépression, à 20 m au N de la courbe la plus au N du sentier.

Depuis le départ 4 je me dirige vers le N en suivant le sentier. Je dépasse de 10 m l'intersection des sentiers, et je suis le rentrant vers l'E. A la jonction des ruisseaux, je reste sur le rentrant le plus au N et j'arrive jusqu'à une clairière. Je me dirige au N de la clairière où je trouve un objet particulier avec mon poste.

